

**ШКОЛЬНЫЙ ЭТАП ВСЕРОССИЙСКОЙ ОЛИМПИАДЫ ШКОЛЬНИКОВ  
ПО ГЕОГРАФИИ  
2021-2022 учебный год  
10 КЛАСС  
ТЕСТ**

Г-10-02

15 баллов









1. Самым южным из данных городов является:  
А) Нью-Йорк                      Б) Рим                      В) Ташкент                      Г) Афины /
2. Солнце никогда не бывает в зените над территорией:  
А) США                      Б) Бразилии                      В) Кении                      Г) Ирана /
3. Один и тот же язык имеет официальный статус в:  
А) Австрии и Люксембурге    Б) Иране и Ираке    В) Швеции и Норвегии    Г) Гвинее и Гвинее-Биссау /
4. Одинаковую валюту имеют  
А) Польша и Литва                      Б) Литва и Латвия                      В) Латвия и Швеция                      Г) Швеция и Дания /
5. Мировым лидером по добыче меди является:  
А) Чили                      Б) Индия                      В) Россия                      Г) Австралия /
6. Какое из следующих государств является лидером по валовому сбору плодов масличной пальмы?  
А) Танзания                      Б) Индонезия                      В) Мексика                      Г) Бразилия /
7. В каком государстве расположена самая мощная ГЭС мира:  
А) Япония    Б) Россия                      В) Китай                      Г) Индия /
8. Великий серебряный пояс Америки проходит по территории:  
А) Канады                      Б) Боливии                      В) Коста-Рики                      Г) Уругвая /
9. К какой из следующих языковых семей относится большая часть людей, живущих в Индонезии:  
А) Индоевропейская                      Б) Паратайская                      В) Австронезийская                      Г) Австроазиатская /
10. Храмовый комплекс под названием «Ангкор-Ват», воздвигнутый в честь бога Вишну расположен в:  
А) Малайзии                      Б) Камбодже                      В) Индонезии                      Г) Индии /
11. Федерацией является:  
А) Пакистан                      Б) Испания                      В) Колумбия                      Г) Алжир /
12. Тувалу относится к:  
А) Меланезии                      Б) Полинезии                      В) Микронезии                      Г) Ничему из вышеперечисленного /
13. Местонахождение какого объекта Всемирного наследия ЮНЕСКО определено неверно?  
А) Дворец и парки Шёнбрунн – Австрия                      Б) Старый город в Несебыре – Болгария /  
В) Дельта Окаванго - Замбия                      Г) Красный форт - Индия /
14. Определите штат США по следующему описанию:  
Входит в десятку крупнейших штатов страны по площади. Одно из прозвищ штата - «Серебряный штат». Данная административно-территориальная единица имеет 5 соседей, самым большим по площади и численности населения из которых является Калифорния. Один из самых знаменитых мировых центров игорного бизнеса является крупнейшим по численности населения городом штата.  
А) Аризона                      Б) Орегон                      В) Невада                      Г) Айдахо /
15. Сталактиты и сталагмиты состоят преимущественно из:  
А)  $\text{Na}_2\text{CO}_3$                       Б)  $\text{CaCO}_3$                       В)  $\text{MgSO}_4$                       Г)  $\text{CaCl}_2$  /

395

Задание 1.

12 баллов

Определите страны мира по контуру и ответьте на дополнительные вопросы (контур в архиве)

<p>А</p>  <p>Словения</p>	<p>Б</p>  <p>Португалия</p>
<p>В</p>  <p>Мозамбик</p>	<p>Г</p>  <p>Эфиопия</p>
<p>Д</p>  <p>Венесуэла</p>	<p>Е</p>  <p>Перу</p>
<p>Ё</p>  <p>Вьетнам</p>	<p>Ж</p>  <p>Пакистан</p>



З Иран



И Аргентина



Й Аргентина



К Малайзия



Л Австрия

Швеция



М



Н ЮАР



О Азербайджан

П

Калыңдыя

Р

Башкыя

С

Тайланд

Т

Ўзбекистан

У

Болгария

Ф

Ирак

Х

Ц

Эстония

- Страна А - *Словения*
- Страна Б - *Португалия*
- Страна В - *Малайзия*
- Страна Г - *Эфиопия*
- Страна Д - *Венесуэла*
- Страна Е - *Перу*
- Страна Ё - *Вьетнам*
- Страна Ж - *Пакистан*
- Страна З - *Иран*
- Страна И - *Аргентина*
- Страна Й - *Аргентина*
- Страна К - *Малайзия*

+

**Дополнительные вопросы (укажите букву страны):**

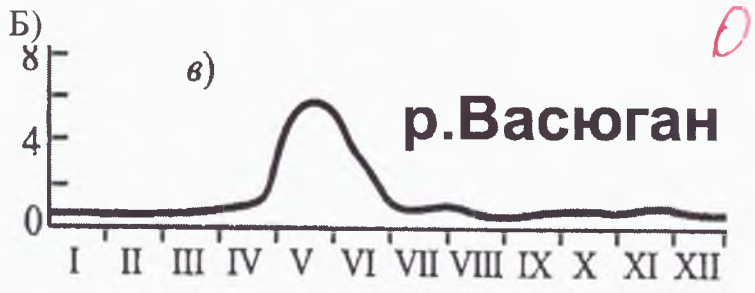
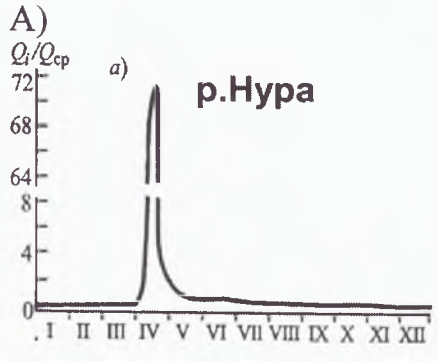
- Г Государственный язык какой страны такой же, как у страны Б? – *Жапония* !
- Г Какое государство потеряло выход к морю в 1993 году? – *Эфиопия* !
- К В столице какой страны расположен известный комплекс небоскребов «Петронас Тауэрс»? – *Кувейт* !
- Д Какая из вышеперечисленных стран обладает наибольшими запасами нефти по данным на 2019 год? – *Саудовская Аравия* !
- У Какая из вышеперечисленных стран последней вошла в состав ЕС? – *Болгария* !
- Ё Национальным блюдом какой из стран является суп Фо? – *Вьетнам* +
- Б Какой из стран принадлежат Азорские острова? – *Португалия* +
- Ж Какая из стран – самая большая по численности населения? – *Индия* +
- Е Где расположен известный древний город Мачу-Пикчу? – *Перу* +
- И В какой стране расположен самый южный город мира? – *Аргентина* +
- А У какой из стран цвета флага совпадают с российским? – *Словения* +
- З Какая из стран в 1935 году сменила название? – *Иран* +

**Задание 2.**

**11 баллов**

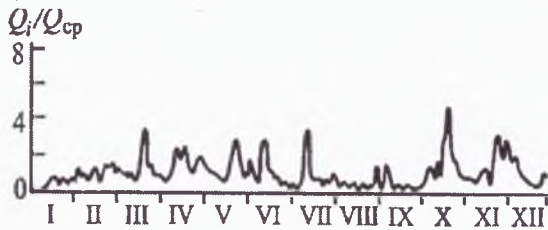
Гидрографом называют график изменения во времени расходов воды в реке или другом водотоке за определенный период времени (чаще всего – за год). Он строится на основе данных о ежедневных расходах воды в том месте, где ведется наблюдение. По горизонтальной оси откладывается временной период (чаще всего – месяцы года), а по вертикальной – объем воды в тот или иной месяц года. Перед вами 4 гидрографа рек, которые можно отнести к разным типам (см. картинки). Соотнесите название типа водного режима реки с гидрографом, ему соответствующим. Один из типов питания – лишний.

Гидрографы

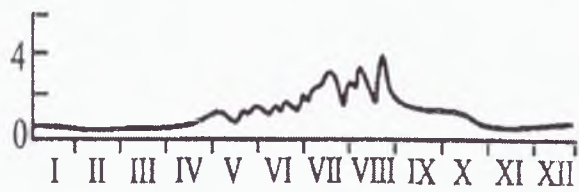


0

В)



Г)



Типы питания: Причерноморский, казахстанский, Тянь-Шанский, западно-сибирский, алтайский  
Укажите, какой тип питания лишний и не соответствует ни одному из гидрографов

Из списка предложенных городов выберите те, которые расположены в тех же климатических зонах, что и реки с соответствующим водным режимом. Один город лишний. Соотнесите каждый город с соответствующим гидрографом.

Анапа, Темиртау, Терек, Лангепас, Певек.

### Задание 3

12 баллов

Определите регион России по описанию и ответьте на дополнительные вопросы

Это – приграничный регион России. В Российской империи современный региональный центр был третьим по численности населения городом среди расположенных на территории современной России, уступая только Петербургу и Москве. В советское время на современной территории располагалась национальная автономия, которая впоследствии была ликвидирована.

Регион практически поровну делится крупной рекой, на берегах которой расположен региональный центр. Также на берегах этой реки располагается город, который является одним из двух в России, в котором расположены и крупная АЭС, и крупная ГЭС. В сельском хозяйстве регион выделяется выращиванием одного из видов зерновых, ряд сортов которого получил свое название в честь региона. Сельское хозяйство в регионе развито в том числе по причине распространения определенного вида плодородных почв на западе региона. В регионе также располагается крупное предприятие по производству одного из видов городского электротранспорта. Региональный центр также известен производством некоего вида бытовой техники под торговой маркой, совпадающим с названием города.

Регион - *Саратовская область* 1

Государство, с которым граничит - *Казахстан* 1

Народ, национальная автономия которого располагалась на современной территории региона - *немцы*

Современный город региона, который был центром данной автономии - *Саратов* 1

Крупнейшая река региона - *Волга* 1

Город региона, в котором расположены крупные ГЭС и АЭС - *Балаково* 1

Город из другого региона, второй в России, в котором расположены крупные ГЭС и АЭС - *Белгород*

Зерновая культура, которой славится регион - *озимая пшеница* 1

Тип плодородных почв, распространённый на западе региона - *черноземы* 1

Городской электротранспорт, который производится в регионе - *троллейбус* -

Какая разница во времени у региона с Москвой (напишите одну цифру) - *+1* 1

Бытовая техника, производимая в региональном центре - *холодильник* 1

*395.*  
*Проверил: И.И. [подпись]*