

**ШКОЛЬНЫЙ ЭТАП ВСЕРОССИЙСКОЙ ОЛИМПИАДЫ ШКОЛЬНИКОВ  
ПО ГЕОГРАФИИ  
2021-2022 учебный год  
9 КЛАСС  
ТЕСТ**

Г-09-01

**15 баллов**

1. Бассейн какой реки полностью расположен в России?  
 А) Енисей     Б) Обь     В) Лена     Г) Амур
2. К одной языковой семье относятся:  
 А) Армяне и башкиры     Б) Татары и чувашаи     В) Финны и литовцы     Г) Таджики и казахи
3. Выберите самый маленький город по численности населения  
 А) Сочи     Б) Магнитогорск     В) Орёл     Г) Махачкала
4. В Чёрное море не впадает река:  
 А) Днестр     Б) Днепр     В) Дунай     Г) Дон
5. Планировку Москвы можно охарактеризовать как:  
 А) Радиально-кольцевую     Б) Трёхлучевую     В) Регулярную     Г) Веерную
6. В каком из данных городов расположен самый мощный нефтеперерабатывающий завод России:  
 А) Рязань     Б) Омск     В) Самара     Г) Ярославль
7. Кумандинцы живут в:  
 А) Чукотском автономном округе     Б) Хабаровском крае     В) Алтайском крае     Г) Свердловской области
8. Какой из субъектов РФ не выходит к берегам Рыбинского водохранилища:  
 А) Вологодская область     Б) Ярославская область     В) Тверская область     Г) Новгородская область
9. Аландские острова принадлежат:  
 А) Норвегии     Б) Финляндии     В) Эстонии     Г) Швеции
10. Самым восточным из перечисленных портов является:  
 А) Сабетта     Б) Тикси     В) Хатанга     Г) Варандей
11. Процесс распространения городских форм и условий жизни на сельскую местность - это:  
 А) Субурбанизация     Б) Джентрификация     В) Рурбанизация     Г) Дезурбанизация
12. Вид, широко распространенный на больших территориях Земли - это:  
 А) Космополит     Б) Синантроп     В) Доместификат     Г) Эндемик
13. Какие облака встречаются в мезосфере?  
 А) Перламутровые     Б) Высококучевые     В) Перистые     Г) Серебристые
14. В какой из перечисленных горных систем расположен один из крупнейших угольных бассейнов:  
 А) Аппалачи     Б) Атлас     В) Кавказ     Г) Альпы
15. Самый большой по площади национальный парк России расположен в:  
 А) Республике Коми     Б) Республике Саха     В) Камчатском крае     Г) Ненецком автономном округе

**Задание 1.**

**11 баллов**

Определите регионы России по контуру и ответьте на дополнительные вопросы (название региона можно писать одним словом, без указания «область» / «край» / «республика»)  
(контурные приложения к письму в архиве)

Регион А



Регион Б



Регион В



Регион Г



Регион Д

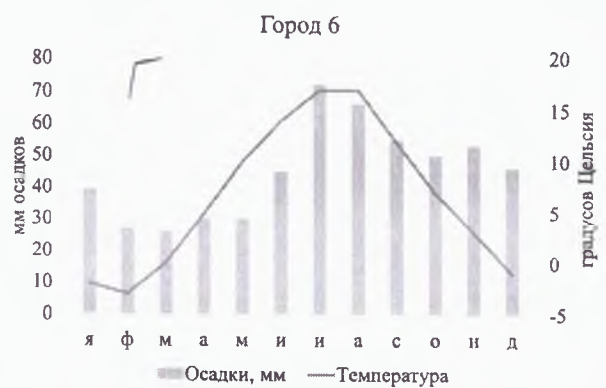
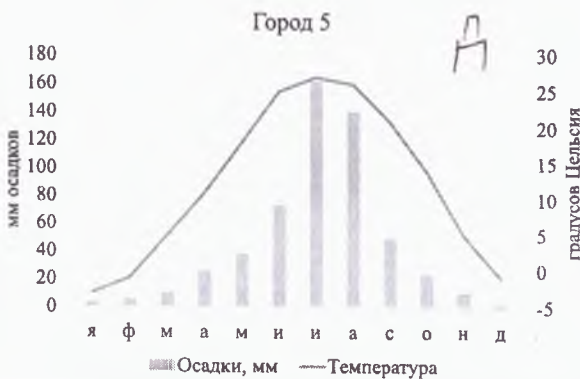
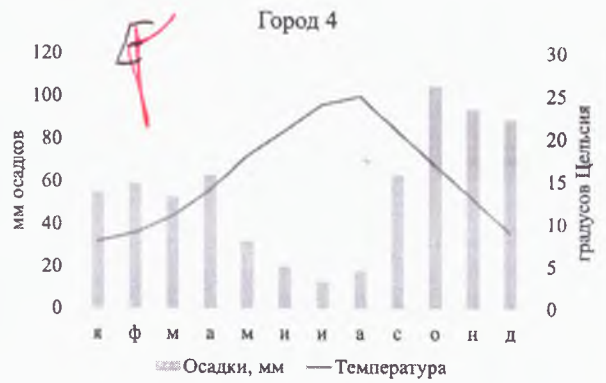
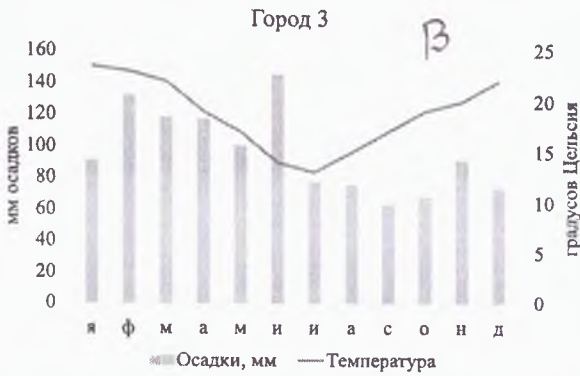
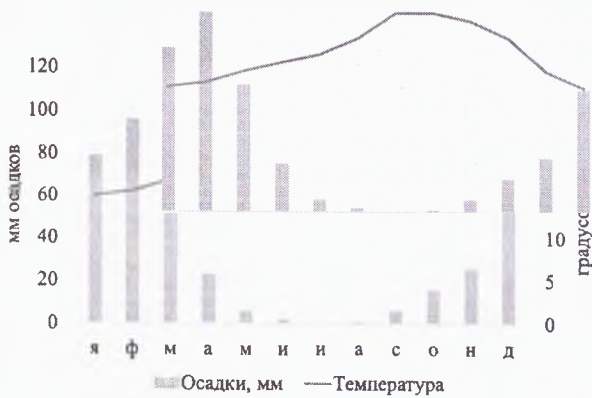


- 1. Регион А - Челябинская область
- 1. Регион Б - Карелия
- 1. Регион В - Дагестан
- 0. Регион Г - Ингушская обл.
- 1. Регион Д - Алтайский край

Дополнительные вопросы (укажите букву региона). Одна и та же буква может использоваться несколько раз

- Какой из этих регионов не граничит с тюркоязычной страной? – *Карелия* ✓
- Административный центр какого региона – город-миллионер? – *Кировский Новгород* ✓
- Административный центр какого региона меньше остальных по населению? – *Тетразавадок* ✓
- Какой из регионов является одним из лидеров в России по сбору яровой пшеницы? – *Нижегородская* ✓
- В каком из регионов русские не являются самым многочисленным народом в структуре населения? – *Дагестан*
- Какой из регионов расположен восточнее остальных? – *Алтайский край* ✓

**Задание 2**  
**12 баллов**





Перед вами климатограммы некоторых городов мира, которые в свое время были олимпийскими столицами. По описанию определите города и соотнесите с климатограммой, которая соответствует городу.

А – Крупнейший город страны и континента, но не столица. Визитной карточкой города является здание оперного театра, которое известно и узнаваемо во всё мире. *Сидней*

Б – По среднегодовому значению температуры – один из самых тёплых городов, в котором когда-либо проходили Зимние Олимпийские игры. Главный морской и горнолыжный курорт страны, в котором расположен. Город сильно вытянут вдоль побережья и примыкает к государственной границе *Сочи*

В – Столица государства-монархии, располагается на берегу залива самого пресного моря мира. В этом городе проходит процедура награждения Нобелевской премией. *Осло* *Стокгольм*

Г – Столица государства, которое входит в топ-3 стран и по площади, и по населению. Один из самых больших городов мира. Не располагается на берегу моря. *Токио*

Д – Приморский город, не является столицей. Центр мировой киноиндустрии. Также является самым крупным городом региона, в котором располагается Кремниевая Долина. *Сейнт-Джозеф*

Е – «Вечный город». Столица, расположен не на берегу моря. С городом связано множество легенд, от основания одним из братьев до спасения гусями. В прошлом – столица крупной империи, просуществовавшей не одно столетие. *Ватикан*

### Задание 3

12 баллов

Определите регион России по описанию и ответьте на дополнительные вопросы

Это – приграничный регион России. В Российской империи современный региональный центр был третьим по численности населения городом среди расположенных на территории современной России, уступая только Петербургу и Москве. В советское время на современной территории располагалась национальная автономия, которая впоследствии была ликвидирована.

Регион практически поровну делится крупной рекой, на берегах которой расположен региональный центр. Также на берегах этой реки располагается город, который является одним из двух в России, в котором расположены и крупная АЭС, и крупная ГЭС. В сельском хозяйстве регион выделяется выращиванием одного из видов зерновых, ряд сортов которого получил свое название в честь региона. Сельское хозяйство в регионе развито в том числе по причине распространения определенного вида плодородных почв на западе региона. В регионе также располагается крупное предприятие по производству одного из видов городского электротранспорта. Региональный центр также известен производством некоего вида бытовой техники под торговой маркой, совпадающим с названием города.

Регион - *Саратовская область*

Государство, с которым граничит - *Казахстан*

Народ, национальная автономия которого располагалась на современной территории региона - *русские*

Современный город региона, который был центром данной автономии - *Саратов*

Крупнейшая река региона - *Волга*

Город региона, в котором расположены крупные ГЭС и АЭС - *Саратов* *Таманск*

Город из другого региона, второй в России, в котором расположены крупные ГЭС и АЭС - *Терки*

Зерновая культура, которой славится регион - *пшеница-ростис*

Тип плодородных почв, распространённый на западе региона - *подзолистый*

Городской электротранспорт, который производится в регионе - *стакан* *машинист* *инструменты*

Какая разница во времени у региона с Москвой (напишите одну цифру) - *10*

Бытовая техника, производимая в региональном центре - *стиральные*

*365*  
*Проверил: И. И. Иванов*